





# Rekenboekje Van alles!

groep 4

[www.spel-en-natuur.nl](http://www.spel-en-natuur.nl)



# Samen 20

3 schelpen inkleuren.



# Samen 20

4 schelpen inkleuren.



$$25 - 4 + 11 =$$

$$29 - 12 + 4 =$$

$$44 - 32 + 8 =$$

$$56 - 19 + 17 =$$

$$75 - 33 + 21 =$$

$$80 - 46 + 13 =$$

$$39 - 12 + 17 =$$

$$41 - 28 + 14 =$$

$$55 - 20 + 34 =$$

$$81 - 35 + 27 =$$

$$100 - 66 + 32 =$$

$$92 - 17 + 22 =$$

$$5 \times 8 + 3 \times 9 =$$

$$2 \times 7 + 6 \times 6 =$$

$$5 \times 4 + 7 \times 8 =$$

$$10 \times 5 + 9 \times 3 =$$

$$9 \times 9 + 6 \times 2 =$$

$$8 \times 8 + 5 \times 5 =$$

$$9 \times 7 - 3 \times 4 =$$

$$8 \times 8 - 9 \times 2 =$$

$$10 \times 6 - 5 \times 4 =$$

$$8 \times 7 - 5 \times 10 =$$

$$7 \times 7 - 6 \times 6 =$$

$$9 \times 6 - 4 \times 3 =$$

Hoeveel uitkomsten zitten er tussen 1 tot en met 15?

Hoeveel uitkomsten zitten er tussen 16 tot en met 31?

Hoeveel uitkomsten zitten er tussen 32 tot en met 47?

Hoeveel uitkomsten zitten er tussen 48 tot en met 63?

Hoeveel uitkomsten zitten er tussen 64 tot en met 79?

Hoeveel uitkomsten zitten er tussen 80 tot en met 100?

# Hoeveel moet ik betalen?

15 euro + 2 euro + 30 cent + 15 cent = €17,45

16 euro + 4 euro + 50 cent = €

19 euro + 50 cent + 2 euro + 50 cent = €

50 euro + 3 euro + 30 cent = €

27 euro + 40 cent + 2 euro + 15 cent = €

49 euro + 2 euro + 50 cent + 50 cent = €

36 euro + 3 euro + 40 cent + 20 cent = €



$13 + \dots = 20$

$16 + \dots = 20$

$12 + \dots = 20$

$11 + \dots = 20$

$15 + \dots = 20$

$10 + \dots = 20$

$34 - \dots = 30$

$28 - \dots = 10$

$56 - \dots = 40$

$42 - \dots = 30$

$55 - \dots = 50$

$48 - \dots = 20$

$4 + 6 + 3 =$

$2 + 7 + 3 =$

$4 + 1 + 9 =$

$5 + 4 + 6 =$

$4 + 4 + 3 =$

$1 + 8 + 7 =$

$10 - 2 - 4 =$

$12 - 6 - 2 =$

$15 - 3 - 5 =$

$18 - 8 - 9 =$

$16 - 3 - 2 =$

$17 - 5 - 2 =$

Hoeveel uitkomsten zitten er tussen 1 tot en met 5?

Hoeveel uitkomsten zitten er tussen 6 tot en met 10?

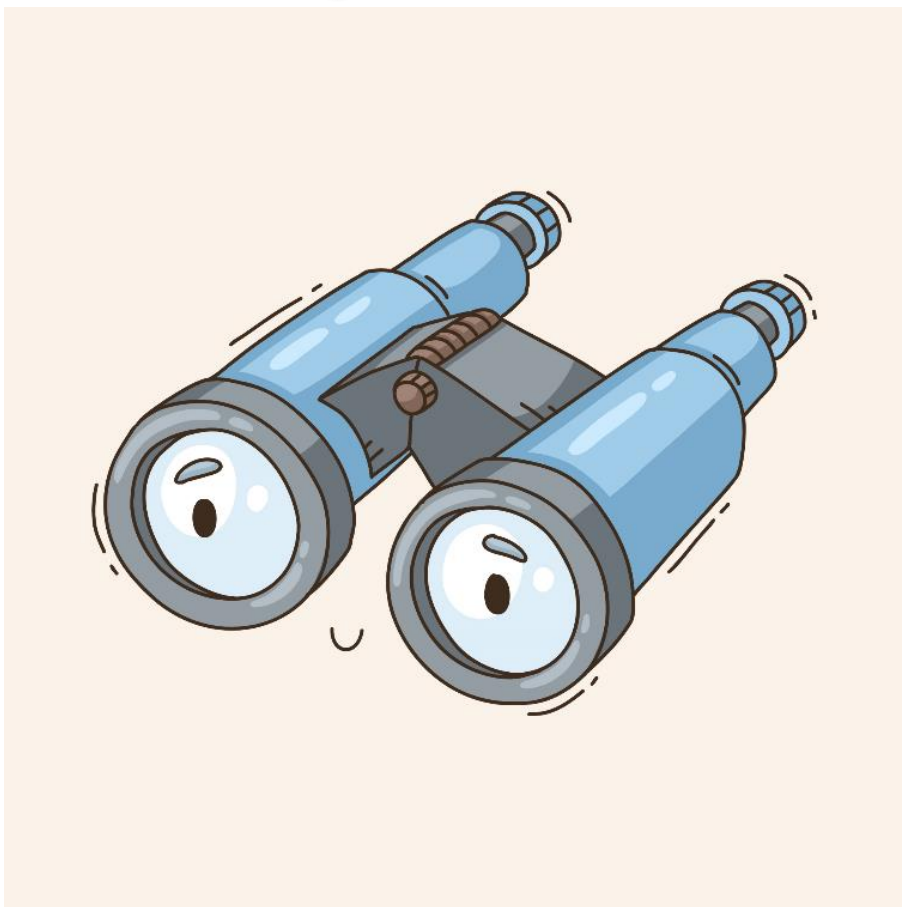
Hoeveel uitkomsten zitten er tussen 11 tot en met 15?

Hoeveel uitkomsten zitten er tussen 16 tot en met 20?

Hoeveel uitkomsten zitten er tussen 21 tot en met 25?


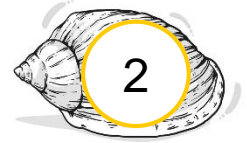
Hoeveel uitkomsten zitten er tussen 26 tot en met 30?

# Nakijkbladen!



# Samen 20

3 schelpen inkleuren.





# Samen 20

4 schelpen inkleuren.



$$25 - 4 + 11 = 32$$

$$29 - 12 + 4 = 21$$

$$44 - 32 + 8 = 20$$

$$56 - 19 + 17 = 54$$

$$75 - 33 + 21 = 63$$

$$80 - 46 + 13 = 47$$

$$39 - 12 + 17 = 44$$

$$41 - 28 + 14 = 27$$

$$55 - 20 + 34 = 69$$

$$81 - 35 + 27 = 73$$

$$100 - 66 + 32 = 66$$

$$92 - 17 + 22 = 97$$

$$5 \times 8 + 3 \times 9 = 67$$

$$2 \times 7 + 6 \times 6 = 50$$

$$5 \times 4 + 7 \times 8 = 76$$

$$10 \times 5 + 9 \times 3 = 77$$

$$9 \times 9 + 6 \times 2 = 93$$

$$8 \times 8 + 5 \times 5 = 89$$

$$9 \times 7 - 3 \times 4 = 51$$

$$8 \times 8 - 9 \times 2 = 46$$

$$10 \times 6 - 5 \times 4 = 40$$

$$8 \times 7 - 5 \times 10 = 6$$

$$7 \times 7 - 6 \times 6 = 13$$

$$9 \times 6 - 4 \times 3 = 42$$

Hoeveel uitkomsten zitten er tussen 1 tot en met 15?

2

Hoeveel uitkomsten zitten er tussen 16 tot en met 31?

3

Hoeveel uitkomsten zitten er tussen 32 tot en met 47?

6

Hoeveel uitkomsten zitten er tussen 48 tot en met 63?

4

Hoeveel uitkomsten zitten er tussen 64 tot en met 79?

6

Hoeveel uitkomsten zitten er tussen 80 tot en met 100?

3

# Hoeveel moet ik betalen?

15 euro + 2 euro + 30 cent + 15 cent = €17,45

16 euro + 4 euro + 50 cent = € 20,50

19 euro + 50 cent + 2 euro + 50 cent = €22,00

50 euro + 3 euro + 30 cent = € 53,30

27 euro + 40 cent + 2 euro + 15 cent = €29,55

49 euro + 2 euro + 50 cent + 50 cent = €52,00

36 euro + 3 euro + 40 cent + 20 cent = €39,60



$13 + 7 = 20$

$16 + 4 = 20$

$12 + 8 = 20$

$11 + 9 = 20$

$15 + 5 = 20$

$10 + 10 = 20$

$34 - 4 = 30$

$28 - 18 = 10$

$56 - 16 = 40$

$42 - 12 = 30$

$55 - 5 = 50$

$48 - 28 = 20$

$4 + 6 + 3 = 13$

$2 + 7 + 3 = 12$

$4 + 1 + 9 = 14$

$5 + 4 + 6 = 15$

$4 + 4 + 3 = 11$

$1 + 8 + 7 = 16$

$10 - 2 - 4 = 4$

$12 - 6 - 2 = 4$

$15 - 3 - 5 = 7$

$18 - 8 - 9 = 1$

$16 - 3 - 2 = 11$

$17 - 5 - 2 = 10$

Hoeveel uitkomsten zitten er tussen 1 tot en met 5?

7

Hoeveel uitkomsten zitten er tussen 6 tot en met 10?

6

Hoeveel uitkomsten zitten er tussen 11 tot en met 15?

7

Hoeveel uitkomsten zitten er tussen 16 tot en met 20?

3

Hoeveel uitkomsten zitten er tussen 21 tot en met 25?

0

Hoeveel uitkomsten zitten er tussen 26 tot en met 30?

1