

Ik heb een bedrag van €120,00
De helft geef ik uit.
Hoeveel € heb ik over?

In de aula zijn 150
plaatsen.
75 zijn er bezet.
hoeveel plaatsen zijn er nog?

In een pak koekjes zitten 12
koekjes. Jos koopt 5 rollen.
Hoeveel koekjes zijn dat?

Roos is jarig. Van haar oma krijgt
ze €40, van haar ook €35, van
haar broer €25. Hoeveel samen?

Eva heeft 15 bossen tulpen. In
elke bos zitten 10 tulpen. Hoeveel
tulpen zijn dat samen?

Rob heeft € 86 en moet dit
verdelen over 3 personen.
Hoeveel krijgt ieder?


Rob en rick fietsen 3 dagen. Ze
rijden 55 km, 45 km en 60 km.
Hoeveel km hebben ze gereden?

De meester gaat de klas in
groepjes 3 verdelen. Er zijn 27
leerlingen. Hoeveel groepjes kan
hij maken?

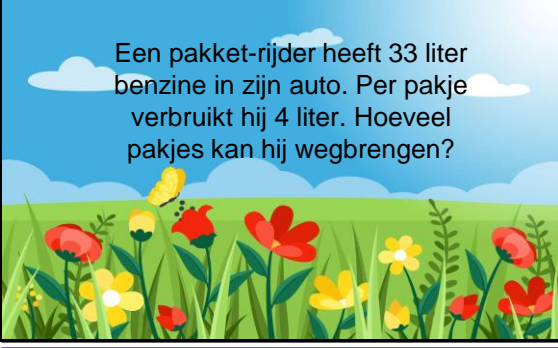
Loek, Lies en Lea verdelen samen
€180.
Hoeveel krijgt ieder?


$$2 \times 17 - 20 = ?$$


$$84 - 35 - 12 = ?$$




Het is 15 oktober. Over twee weken heb ik een afspraak bij de kapper.
Welke datum is dat?




Een pakket-rijder heeft 33 liter benzine in zijn auto. Per pakje verbruikt hij 4 liter. Hoeveel pakjes kan hij wegbrengen?



$$3 \times 6 + 9 \times 9 =$$



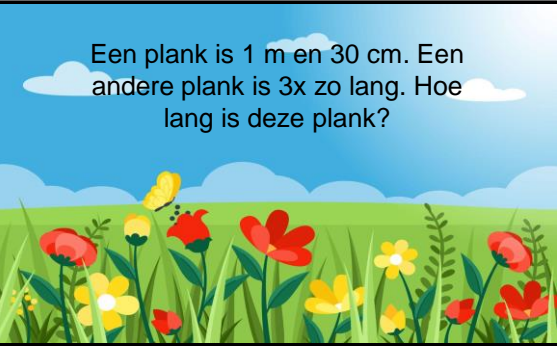
Hoe schrijf je de digitale tijd van kwart voor 10



Voor een groot feest zijn er 265 hapjes gemaakt. Er zijn er nog maar 22 over. Hoeveel zijn er opgegeten?



Je vertrekt om 7.30 uur en komt 8,5 uur later thuis. Hoe laat is het dan?



Een plank is 1 m en 30 cm. Een andere plank is 3x zo lang. Hoe lang is deze plank?

Een hovenier gaat een tuin
aanleggen met tegels. Hij heeft 32
grote tegels, 37 ronde tegels en 45
kleine tegels. Hoeveel tegels zijn
dat samen?



Tessa fietst 28 km en Rob fietst
81 km. Hoeveel km heeft Rob
meer gefietst?

